

Svar på opgave 383

(Oktober 2021)

Opgave:

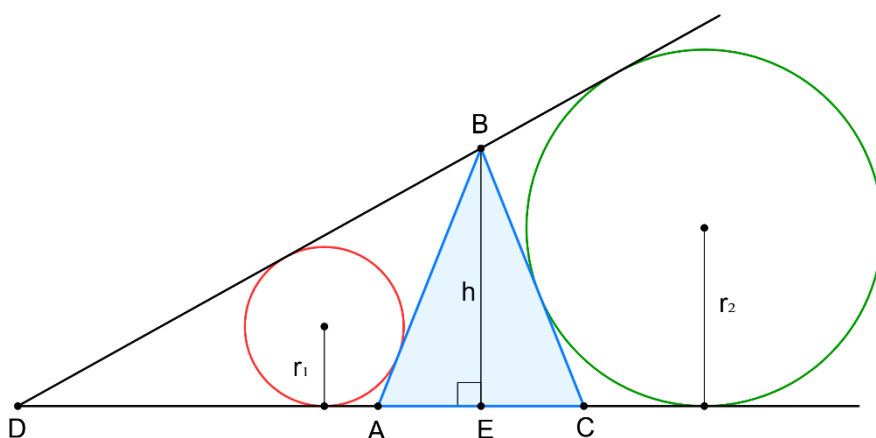
$\triangle ABC$ er ligebenet med $BA = BC$ og $h = BE$ er højden fra B .

Punktet D vælges på forlængelsen af CA ud over A .

Den indskrevne cirkel i $\triangle ABD$ har radius r_1 og

radius i den ydre røringsskive for siden BC i $\triangle DBC$ er r_2 .

Vis, at $h = r_1 + r_2$.



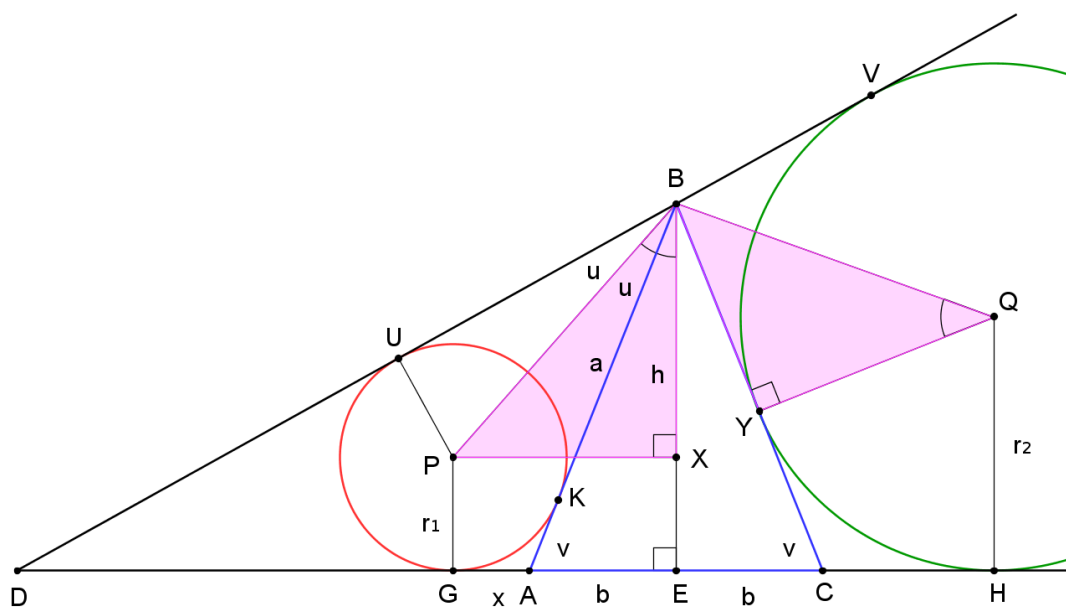
Besvarelse:

1. metode

Lad P og Q være cirklerne centre. Projektionerne af P på BE , AD og DB er X , G og U og projektionerne af Q på BC , AD og DB er Y , H og V . Den lille cirkel tangerer BA i K .

Vi sætter

$$a = AB = BC \quad , \quad b = AE = EC \quad , \quad x = GA = AK \quad , \quad y = CH = CY .$$



Lad $2s_1$ og $2s_2$ være omkredsene af $\triangle DBA$ og $\triangle DBC$, så

$$2s_1 = AD + AB + BD \quad , \quad 2s_2 = DC + BC + DB .$$

Vi har at

$$DC = DA + 2b \quad \text{og} \quad AB = BC \quad ,$$

så vi får

$$2s_1 - AD = AB + BD \quad \text{og} \quad 2s_2 - DC = BC + BD \quad ,$$

og da $AB = BC$ er

$$2s_1 - AD = 2s_2 - DC \quad \Leftrightarrow \quad 2s_1 - AD = 2s_2 - (AD + 2b) \quad \Leftrightarrow \quad s_1 = s_2 - b .$$

For den ydre røringsskive for $\triangle DBC$ svarende til siden BC gælder

$$BV = BY = s_2 - DB = s_2 - (DU + UB) .$$

Da en tangentvinkels ben er lige lange er

$$UB = BK = BA - KA = a - AG = a - x \quad \text{og} \quad DU = DG \quad ,$$

så

$$BV = BY = s_2 - (DG + a - x) . \tag{1}$$

Nu er

$$\begin{aligned} 2s_1 &= (DG + DU) + (BU + BK) + (AG + AK) = 2DG + 2BK + 2x \\ &\Leftrightarrow s_1 = DG + BK + x = DG + BK + KA = DG + a . \end{aligned} \tag{2}$$

Idet $s_2 = s_1 + b$ får vi af (1) og (2):

$$BV = BY = s_1 + b - DG - a + x = x + b = GE . \tag{3}$$

Vi sætter

$$u = \angle ABP \quad \text{og} \quad v = \angle BAC .$$

Så er

$$\angle XBA = \angle EBA = 90^\circ - v$$

og i $\triangle BPX$ får vi

$$\angle XBP = \angle XBA + \angle ABP = 90^\circ - v + u \quad , \quad \angle BPX = v - u .$$

Derefter ser vi på $\triangle BYQ$ og får

$$\angle QBY = \frac{1}{2} \angle VBY = \frac{1}{2} \cdot (180^\circ - \angle DBY). \quad (4)$$

I $\triangle ABD$ er $\angle DAB = 180^\circ - v$ og dermed

$$\angle ADB = 180^\circ - 2u - (180^\circ - v) = v - 2u.$$

I $\triangle DBC$ er

$$\angle DBY = \angle DBC = 2u + 180^\circ - 2v,$$

så vi efter (4) får

$$\begin{aligned} \angle QBY &= 90^\circ - \frac{1}{2} \cdot \angle DBY = 90^\circ - (u + 90^\circ - v) \\ &= 90^\circ - u - 90^\circ + v = v - u = \angle BPX. \end{aligned}$$

Dermed får vi i $\triangle BQY$, at

$$\angle BQY = 90^\circ - \angle QBY = 90^\circ - v + u = \angle XBP.$$

Derfor er $\triangle BYQ$ og $\triangle BXP$ ensvinklede, og da vi efter (3) har at

$$BY = GE = PX,$$

er de to trekanter endda kongruente. Så er

$$BX = QY = r_2,$$

og da desuden

$$XE = PG = r_1$$

har vi

$$h = BE = BX + XE = r_2 + r_1.$$

2. metode

Vi sætter $a = AB = BC$ og $b = AE = EC$. Med figurens betegnelser har vi, at

$$AL = AQ, \quad BQ = BK, \quad DL = DK.$$

Dermed er

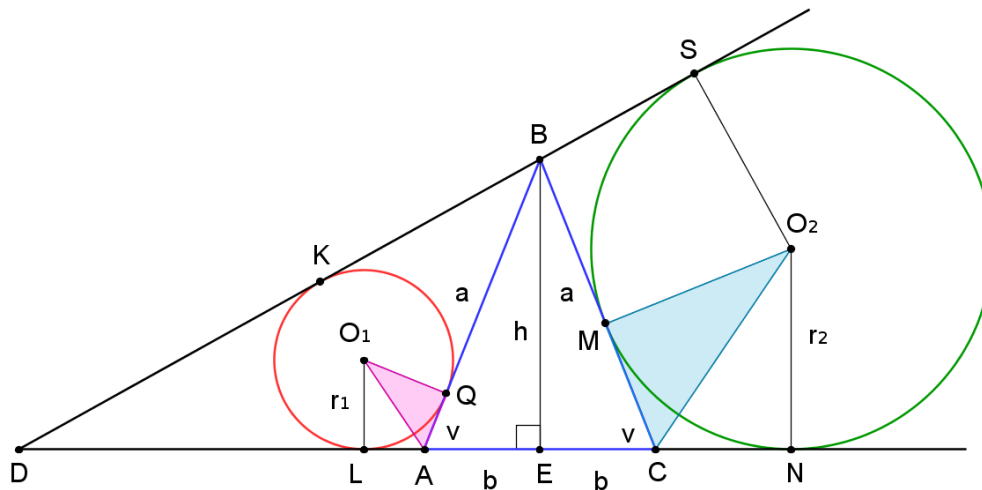
$$DL + BQ = DK + BK = DB,$$

hvoraf

$$(AD - AL) + (AB - AQ) = DB.$$

Da $AL = AQ$, får vi heraf

$$AQ = AD - AL + AB - DB \quad \Leftrightarrow \quad 2AQ = AD + AB - DB.$$



På samme måde er

$$2CM = BD + CB - DC,$$

fordi dette under anvendelse af $CM = CN$ og $BM = BS$ er ensbetydende med

$$\begin{aligned} 2CM &= BD + CM + BM - DC \quad \Leftrightarrow \quad CM = BD + BM - DC \\ \Leftrightarrow \quad CM &= BD + BM - (DN - CN) \quad \Leftrightarrow \quad CM = BD + BM - DN + CN \\ \Leftrightarrow \quad BD + BM &= DN \quad \Leftrightarrow \quad BD + BS = DN \quad \Leftrightarrow \quad DS = DN, \end{aligned}$$

hvilket er sandt.

Så er

$$\begin{aligned} 2(AQ + CM) &= AD + AB - DB + BD + CB - DC = AD + AB + BC - DC \\ &= AD + AB + BC - DA - AC = AB + BC - AC = 2a - 2b. \end{aligned}$$

eller

$$AQ + CM = a - b.$$

Dermed er $AQ + CM$ uafhængig af valget af punktet D på AC .

Hvis $v = \angle BAC = \angle BCA$, ser vi i $\triangle O_1AQ$, at $\angle O_1AQ = 90^\circ - \frac{1}{2}v$, så

$$\tan\left(90^\circ - \frac{1}{2}v\right) = \frac{r_1}{AQ},$$

og i $\triangle O_2MC$ er

$$\tan\left(90^\circ - \frac{1}{2}v\right) = \frac{r_2}{CM}.$$

Altså er

$$\begin{aligned} \tan\left(90^\circ - \frac{1}{2}v\right) &= \frac{r_1 + r_2}{AQ + CM} \quad \Leftrightarrow \quad \frac{r_1 + r_2}{a - b} = \cot \frac{1}{2}v = \frac{\sin v}{1 - \cos v} \\ \Leftrightarrow \quad \frac{r_1 + r_2}{a - b} &= \frac{\frac{h}{a}}{1 - \frac{b}{a}} \quad \Leftrightarrow \quad \frac{r_1 + r_2}{a - b} = \frac{h}{a - b}. \end{aligned}$$

Altså er $h = r_1 + r_2$.

3. metode (Jens-Søren Andersen)

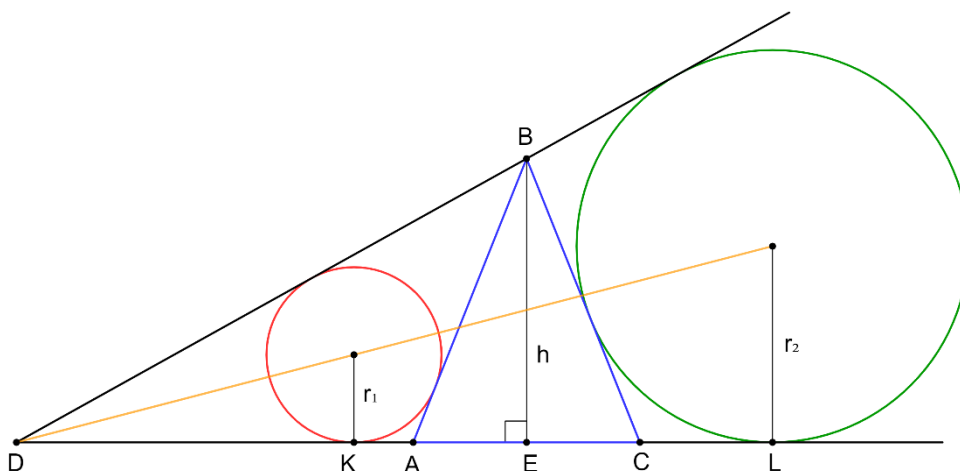
I en vilkårlig $\triangle ABC$ gælder, at

$$\tan \frac{A}{2} = \frac{r_a}{s} ,$$

Hvor r_a er radius i den ydre røringsskive, der tangerer siden a og s er trekantens halve omkreds. Desuden gælder i en retvinklet $\triangle ABC$ hvor C er ret, at

$$\tan \frac{A}{2} = \frac{\sin A}{1 + \cos A} = \frac{\frac{a}{c}}{1 + \frac{b}{c}} = \frac{a}{b+c} .$$

Lad nu s_1 og s_2 være den halve omkreds af $\triangle ABD$ og $\triangle BCD$ og lad projektionerne af centrene for cirklerne med radier r_1 og r_2 på DC være K og L .



Nu er $DK = s_1 - AB$, så vi i $\triangle ABD$ får

$$\tan \frac{D}{2} = \frac{r_1}{DK} = \frac{r_1}{s_1 - AB} .$$

I $\triangle BCD$ får vi

$$\tan \frac{D}{2} = \frac{r_2}{s_2} ,$$

hvoraf

$$r_1 + r_2 = \tan \frac{D}{2} \cdot (s_1 - AB + s_2) . \quad (5)$$

Nu er

$$s_1 = \frac{1}{2} (BD + DA + AB) \quad , \quad s_2 = \frac{1}{2} (CD + BC + BD) ,$$

og idet $BC = AB$ giver dette

$$\begin{aligned} s_1 + s_2 - AB &= \frac{1}{2} (2BD + 2AB + DA + CD) - AB = BD + AB + \frac{1}{2} (DA + CD) - AB \\ &= BD + \frac{1}{2} (DA + CA + AD) = BD + DA + \frac{1}{2} CA = BD + DA + AE = BD + DE . \end{aligned}$$

Af (5) får vi så

$$r_1 + r_2 = \tan \frac{D}{2} \cdot (BD + DE) . \quad (6)$$

Da $\triangle BED$ er retvinklet gælder efter bemærkningen oven for, at

$$\tan \frac{D}{2} = \frac{BE}{BD + DE} \Leftrightarrow \tan \frac{D}{2} \cdot (BD + DE) = BE,$$

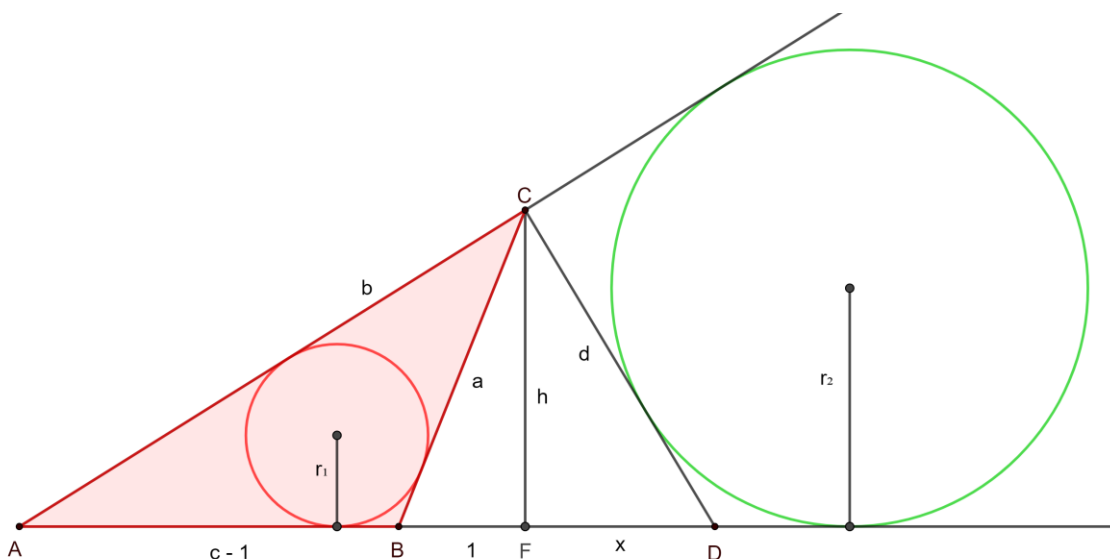
så (6) giver

$$r_1 + r_2 = BE = h.$$

Bemærkning

Walther Janous, Innsbruck, viser en udvidelse, nemlig følgende:

I $\triangle ABC$ er B stump. Højden fra C er $h = CF$ og radius i trekantens indskrevne cirkel er r_1 . Punktet D ligger på forlængelsen af AB ud over B og radius i den ydre røringssirkel i $\triangle ADC$ på siden CD er r_2 . Da er $r_1 + r_2 = h$ netop hvis $\triangle BCD$ er ligebenet med $CB = CD$.



Lad $FD = x$, $BC = a$, $AC = b$ og $AF = c$. Vi kan sætte $BF = 1$, så $AB = c - 1$. Hvis s er den halve omkreds af $\triangle ABC$, er

$$[\triangle ABC] = r_1 \cdot s,$$

hvoraf

$$r_1 = \frac{2[\triangle ABC]}{2s} = \frac{h \cdot (c-1)}{a+b+c-1}.$$

I $\triangle ACD$ sætter vi $CD = d$. I $\triangle ACD$ er r_2 radius i den ydre røringssirkel over for A , så efter en kendt formel er

$$r_2 = \frac{[\triangle ACD]}{s_1 - d},$$

hvor s_1 er den halve omkreds:

$$2s_1 = c + x + b + d,$$

så vi får

$$r_2 = \frac{2[\triangle ACD]}{2s_1 - 2d} = \frac{(c+x) \cdot h}{c+x+b+d-2d} = \frac{(c+x) \cdot h}{c+x+b-d}.$$

Derfor er

$$\begin{aligned}
r_1 + r_2 = h &\Leftrightarrow \frac{h(c-1)}{a+b+c-1} + \frac{h(c+x)}{c+x+b-d} = h \\
&\Leftrightarrow \frac{c-1}{a+b+c-1} + \frac{c+x}{c+x+b-d} - 1 = 0 \Leftrightarrow \frac{ab-ad+b^2-bd-c^2-cx+c+x}{(a+b+c-1)(c+x+b-d)} = 0 \quad (7) \\
&\Leftrightarrow ab - ad + b^2 - bd - c^2 - cx + c + x = 0 \Leftrightarrow d(a+b) = ab + b^2 - c^2 - cx + c + x \\
&\Leftrightarrow d = \frac{ab+b^2-c^2+c(1-x)+x}{a+b}.
\end{aligned}$$

I $\triangle ACF$, $\triangle CBF$ og $\triangle CFD$ er

$$h^2 = b^2 - c^2, \quad h^2 = a^2 - 1, \quad h^2 = d^2 - x^2. \quad (8)$$

Heraf fås

$$\begin{aligned}
d^2 = x^2 + h^2 = x^2 + b^2 - c^2 &\Leftrightarrow x^2 + b^2 - c^2 = \left(\frac{ab+b^2-c^2+c(1-x)+x}{a+b} \right)^2 \\
&\Leftrightarrow x^2 + b^2 - c^2 - \left(\frac{ab+b^2-c^2+c(1-x)+x}{a+b} \right)^2 = 0.
\end{aligned}$$

Flittig brug af algebra giver, at dette er ensbetydende med, at

$$a^2(c+x) + 2ab(1-x) - b^2(c+x-2) + (c-1)^2(c+x) = 0,$$

hvilket giver

$$x = \frac{a^2c + 2ab + b^2(2-c) + c(c-1)^2}{a^2 + 2ab + b^2 - (c-1)^2}. \quad (9)$$

Efter (8) er

$$b^2 - c^2 = a^2 - 1 \quad \text{eller} \quad b^2 = a^2 + c^2 - 1. \quad (10)$$

Ved brug heraf reduceres både tæller og nævner i (9) til

$$2ab + 2a^2 + 2c - 2.$$

Dermed er $x = 1$, så $FD = BF$ og $\triangle CBD$ er ligebenet.

Hvis omvendt $x = 1$, er $d = a$, så vi af (1) får

$$\begin{aligned}
\frac{c-1}{a+b+c-1} + \frac{c+x}{c+x+b-d} &= \frac{c-1}{a+b+c-1} + \frac{c+1}{c+1+b-d} \\
&= \frac{(c-1)(c+1+b-a) + (c+1)(a+b+c-1)}{(b+c+(a-1))(b+c-(a-1))} = \frac{2c^2 + 2bc + 2a - 2}{(b+c)^2 - (a-1)^2} \\
&= \frac{2c^2 + 2bc + 2a - 2}{b^2 + c^2 + 2bc - a^2 - 1 + 2a} = \frac{2c^2 + 2bc + 2a - 2}{a^2 + c^2 - 1 + c^2 + 2bc - a^2 - 1 + 2a} = 1.
\end{aligned}$$

Her har vi ved det sidste lighedstegn brugt (10).

Dermed er beviset ført.

Besvarelser modtaget fra:

- Jens-Søren Andersen
- Roger Bengtsson
- Hans Benner
- Walther Janous
- Hans Mortensen
- Jan Erik Pedersen
- Palle Bak Petersen.